



PER COMINCIARE

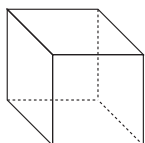


L'OCHETTA

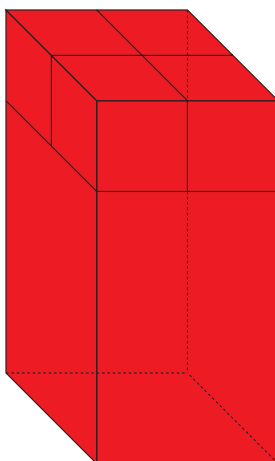


QUANTE TESSERE **ROSSE** COME QUESTA 
PENSATE CHE SERVIRANNO PER RICOPRIRE L'OCHETTA?
SERVIRANNO TESSERE **ROSSE**

LE TORRI



QUANTI MATTONI COME QUESTO SERVONO PER COSTRUIRE LA
TORRE?




SERVONO..... MATTONI


TESSERE



1. COSTRUIRE CON LE TESSERE DI LEGNO FORME DIVERSE. SCEGLIETENE DUE, DATE LORO UN NOME, DISEGNATELE QUI SOTTO E POI COLORATELE.



2. GUARDATE QUESTE FIGURE:



GATTO



LUMACA



BARCETTA

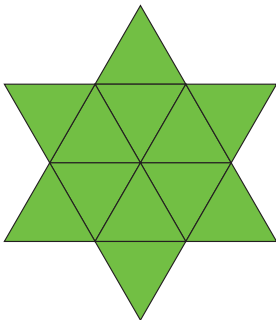
PROVATE A RICOSTRUIRLE CON LE TESSERE DI LEGNO CHE AVETE SUL TAVOLO.
QUANTE TESSERE AVETE USATO PER COSTRUIRLE?

PER COSTRUIRE IL **GATTO** ABBIAMO USATO TESSERE,

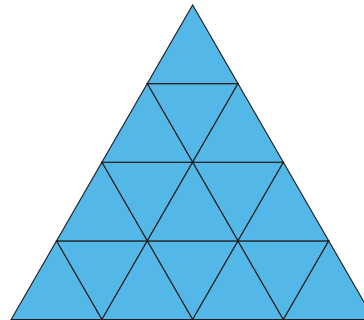
PER COSTRUIRE LA **LUMACA** ABBIAMO USATO TESSERE,

PER COSTRUIRE LA **BARCETTA** ABBIAMO USATO TESSERE,

3. COSTRUITE QUESTE FIGURE CON LE TESSERE DI LEGNO:



STELLA



PIRAMIDE

AVETE USATO LO STESSO NUMERO DI TESSERE? SÌ NO


PROVATE ORA A CIRCONDARE LA STELLA E POI LA PIRAMIDE CON LE CORDE CHE TROVATE SUL TAVOLO IN MODO CHE ADERISCANO BENE AL BORDO. CI SONO QUELLE DELLA MISURA GIUSTA. AVETE USATO UNA CORDA PIÙ LUNGA PER LA PIRAMIDE O PER LA STELLA? OPPURE LE DUE CORDE ERANO UGUALI?

ABBIAMO USATO UNA CORDA PIÙ LUNGA PER LA PIRAMIDE

ABBIAMO USATO UNA CORDA PIÙ LUNGA PER LA STELLA

ABBIAMO USATO DUE CORDE CHE HANNO LA STESSA LUNGHEZZA


4. COSTRUIRE UNA NUOVA FIGURA SOLO CAMBIANDO POSIZIONE A 4 TESSERE DELLA PIRAMIDE E POI DISEGNATELA



QUALE DELLE DUE FIGURE OCCUPA PIÙ SPAZIO SUL TAVOLO? LA PIRAMIDE O LA VOSTRA? VE LO ASPETTAVATE?

PER QUALE DELLE DUE FIGURE OCCORRE UNA CORDA PIÙ LUNGA PER CIRCONDARLA? VE LO ASPETTAVATE?

5. CON LE STESSE TESSERE CHE AVETE USATO PER COSTRUIRE LA STELLA REALIZZATE ORA UNA NUOVA FIGURA E DISEGNATELA.



QUALE DELLE DUE FIGURE OCCUPA PIÙ SPAZIO SUL TAVOLO? LA STELLA O LA VOSTRA? VE LO ASPETTAVATE?

PER QUALE DELLE DUE FIGURE OCCORRE UNA CORDA PIÙ LUNGA PER CIRCONDARLA? VE LO ASPETTAVATE?




1. REALIZZATE CON I CUBI COSTRUZIONI DIVERSE. SCEGLIETENE UNA, DATELE UN NOME E PROVATE A DISEGNARLA DA SOLI O FATEVI AIUTARE DALL'ANIMATORE.

QUANTI CUBI AVETE USATO NELLA VOSTRA COSTRUZIONE?

PER LA NOSTRA COSTRUZIONE ABBIAMO UTILIZZATO CUBI.


2. COSTRUIRE LA TORRE PIÙ ALTA CON TUTTI I MATTONI CHE SONO SUL TAVOLO E PROVATE A DISEGNARLA O FATEVI AIUTARE DALL'ANIMATORE.



QUANTE SONO LE FACCE BACIATE DEI MATTONI CHE FORMANO LA TORRE?

LE FACCE BACIATE DEI MATTONI CHE FORMANO LA TORRE SONO

3. CON TUTTI I MATTONI DELLA TORRE PROVATE ADESSO A COSTRUIRE UN’ALTRA TORRE, ALTA LA METÀ DI QUELLA DI PRIMA E DISEGNATELA QUI SOTTO O FATEVI AIUTARE DALL’ANIMATORE.



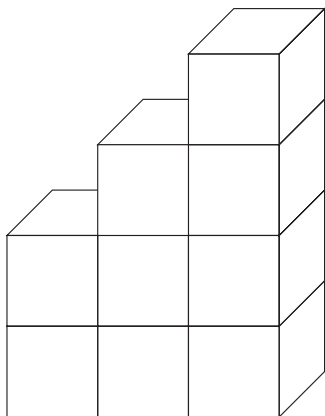
QUANTE SONO LE FACCE BACIATE?

.....

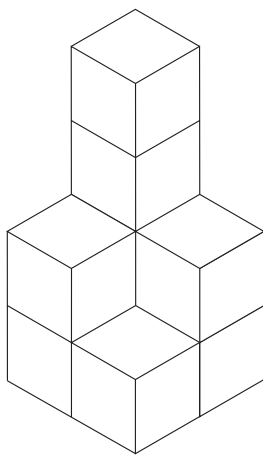
QUALE DELLE DUE TORRI OCCUPA PIÙ SPAZIO NELLA STANZA?

.....

4.



SCALA



TRONO

OSSERVATE ATTENTAMENTE QUESTE COSTRUZIONI E PROVATE A RIFARLE CON I MATTONI CHE TROVATE SUL TAVOLO: C'È UN SOLO MODO PER COSTRUIRLE?

PER LA SCALA C'È UN SOLO MODO?

PER IL TRONO C'È UN SOLO MODO?

PER LA FINESTRA C'È UN SOLO MODO?

QUANTI MATTONI AVETE USATO PER REALIZZARE LE TRE COSTRUZIONI? CONTA-TE SOLO QUELLI INDISPENSABILI

PER REALIZZARE LA SCALA ABBIAMO USATO MATTONI

PER REALIZZARE IL TRONO ABBIAMO USATO MATTONI

PER REALIZZARE LA FINESTRA ABBIAMO USATO MATTONI

QUALE DELLE VOSTRE COSTRUZIONI OCCUPA PIÙ SPAZIO NELLA STANZA?

LA SCALA OCCUPA PIÙ SPAZIO NELLA STANZA DI QUANTO NE OCCUPANO LE ALTRE DUE

IL TRONO OCCUPA PIÙ SPAZIO NELLA STANZA DI QUANTO NE OCCUPANO LE ALTRE DUE

LA FINESTRA OCCUPA PIÙ SPAZIO NELLA STANZA DI QUANTO NE OCCUPANO LE ALTRE DUE

PER CONCLUDERE



INDICATE CON UNA CROCETTA CON QUALI OGGETTI AVETE LAVORATO DURANTE IL LABORATORIO:

- LE TESSERE TRIANGOLARI
- I MATTONI

TRA LE DOMANDE SEGUENTI RISPONDETE ADESSO SOLO A QUELLE CHE SI RIFERISCONO AGLI OGGETTI CHE AVETE UTILIZZATO DURANTE IL LABORATORIO

L'OCHETTA E IL CANE

OCHETTA



CANE



QUANTE TESSERE ROSSE COME QUESTA  SERVONO PER COSTRUIRE L'OCHETTA?

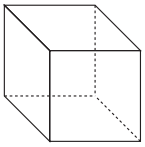
E QUANTE TESSERE OCCORRONO PER IL CANE?

SE, SPOSTANDO DUE TESSERE DELL'OCHETTA, COSTRUIRE UNA NUOVA FIGURA E LA DISEGNATE PER UN VOSTRO COMPAGNO SENZA FARGLI VEDERE LE TRACCE DELLE TESSERE, QUANTE TESSERE DOVRÀ USARE PER RICOPRIRLA?

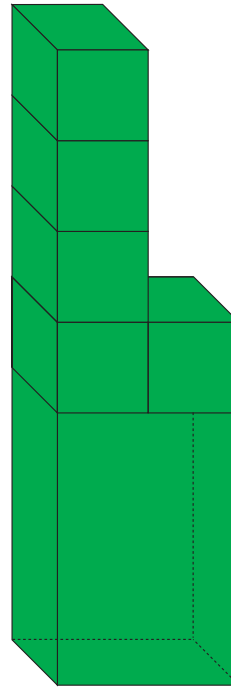
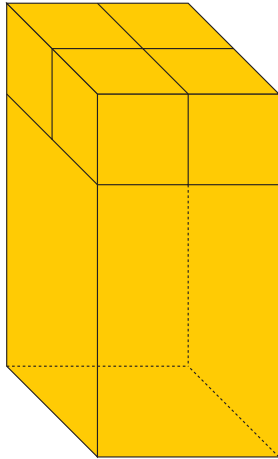
- PIÙ TESSERE DI QUELLE CHE AVETE USATO VOI
- MENO TESSERE DI QUELLE CHE AVETE USATO VOI
- LO STESSO NUMERO DI TESSERE CHE AVETE USATO VOI

POTETE DIRLO SENZA CONTARE SÌ NO

PERCHÉ?



QUANTI MATTONI COME QUESTO SERVONO PER COSTRUIRE LA TORRE GIALLA?



PER COSTRUIRE LA TORRE GIALLA SERVONO MATTONI

E PER COSTRUIRE LA TORRE VERDE?

PER COSTRUIRE LA TORRE VERDE SERVONO MATTONI

PER QUALE DELLE DUE TORRI OCCORRONO PIÙ MATTONI?

PER LA TORRE GIALLA

PER LA TORRE VERDE

POTETE DIRLO SENZA CONTARE SÌ

NO

PERCHÉ?
